

ACTIVIDADES OPCIONALES DE SEGUNDO GRADO PARA TERCER GRADO - 2 017

NOMBRES Y APELLIDOS : _____

Querido alumno(a):

La siguiente actividad te será de gran utilidad para reforzar las habilidades aprendidas durante el año 2 016.

Resuelve en forma ordenada y con mucha limpieza cada actividad propuesta.



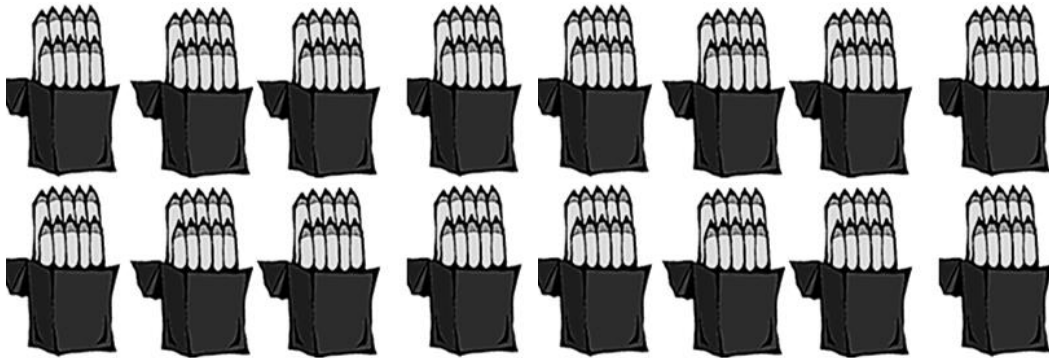
Recuerda practicar
lectura y distribuir bien
tu tiempo durante las
vacaciones.

Matemática

1. Cuenta, luego completa las oraciones:



- Hay _____ unidades de pastelitos.
- Se puede formar ____ decenas de pastelitos.
- Faltan _____ pastelitos para llegar a 100.



- Hay _____ unidades de lápices.
- Hay _____ decenas de lápices.



- Hay _____ unidades de estrellitas.
- Se puede formar _____ decenas de estrellitas.
- Faltan _____ estrellas para llegar a 100.

2. Resuelve las siguientes operaciones usando la técnica pre operativa aprendida. Para recordar, visita:

<https://www.youtube.com/watch?v=0onDgKj6Mm0>

$76 + 7 =$

$37 - 9 =$

$29 + 28 =$

$80 - 24 =$

$43 + 29 =$


$73 - 58 =$

3. Completa las tablas. Recuerda repasar las multiplicaciones núcleo.

Multiplica por 2	
0	
7	
1	
9	



Multiplica por 3	
10	
1	
5	
2	



Multiplica por 4	
0	
7	
1	
9	

Multiplica por 5	
0	
10	
1	
6	

Multiplica por 2	
6	
10	
5	
7	

Multiplica por 5	
7	
0	
4	
1	

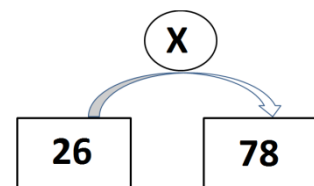
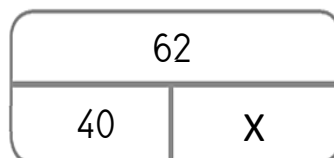
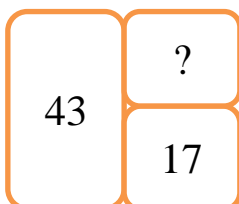
Multiplica por 8	
5	
2	
10	
1	

Multiplica por 7	
5	
2	
10	
1	

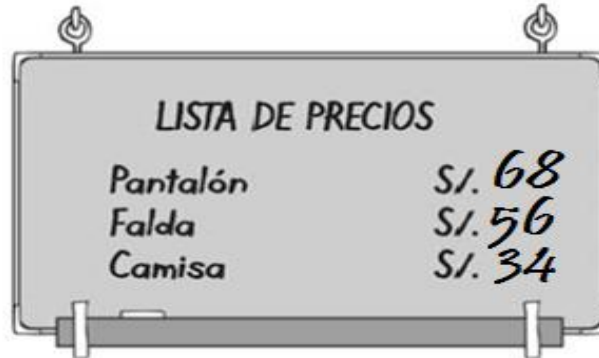
Multiplica por 4	
0	
2	
10	
9	

Multiplica por 2	
0	
2	
10	
9	

4. ¿Cuánto vale "X"?



5. Inventa un problema para cada esquema anterior y escríbelos en una hoja adicional.
6. Lee atentamente los problemas, resuélvelos usando criptografía, esquemas o la técnica operativa. Luego, escribe las respuestas.



LISTA DE PRECIOS	
Pantalón	S/. 68
Falda	S/. 56
Camisa	S/. 34

- a) ¿Cuánto pagaré si compro dos faldas y una camisa?

Respuesta: _____

- b) ¿Qué podré comprar si tengo 30 soles? ¿Cuánto me sobrará?

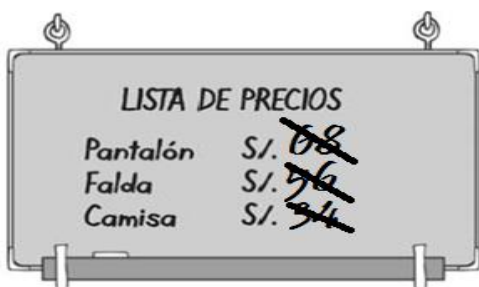
Respuesta: _____



c) La familia Guzmán fue de compras. Los hombres de la familia compraron camisas y las mujeres faldas. ¿Cuánto dinero pagaron por la compra?

Respuesta: _____

d) ¡Hoy estuvo todo a mitad de precio! Escribe a qué precios quedan los productos. Para calcular, puedes usar criptografía.



e) Pedro tiene S/. 75 y le presta algo de dinero a su hermano para que se compre una camisa. Ahora, Pedro tiene 23 soles, ¿cuántos soles le prestó a su hermano?

Respuesta: _____

f) La tabla muestra las camisas que tiene la tienda.

TALLA	CAMISAS DE MANGA CORTA	CAMISAS DE MANGA LARGA
NIÑOS	32	20
ADULTOS	45	29

¿Cuántas camisas para niños menos que para adultos hay?

Respuesta: _____

g) Rodrigo compró 5 cajas con 6 camisas en cada una. ¿Cuántas camisas compró en total?

Respuesta: _____

h) El vendedor de la tienda debe poner 32 pantalones en cajones. En cada cajón siempre hay 8 pantalones. ¿Cuántos cajones necesitará?

Respuesta: _____

i) Ana María compra 12 faldas. Paty compra el doble y Andrea compra el triple de faldas. ¿Cuántas faldas tiene Paty?, ¿Cuántas faldas tiene Andrea?, ¿Cuántas faldas más tiene Andrea que Ana María?, ¿Cuántas faldas tienen entre las tres juntas?

Respuesta: _____