



ACTIVIDADES OPCIONALES

PARA ALUMNOS QUE PASAN A SEGUNDO GRADO DE
PRIMARIA

Matemática




Nombre: _____

Primer grado - Sección: _____

Instrucciones.

- + Lee atentamente cada pregunta.
- + Marca con un aspa (X) la alternativa de respuesta que consideres correcta.
- + Recuerda que solo puedes marcar una de las alternativas.

1. Agrupa en decenas y responde. ¿Cuántas fresas hay en total?



- a) 18 decenas b) 1 decena c) 18 unidades

2. ¿Cómo se lee el siguiente número?

15

- a) cinco b) quince c) quince

3. Observa el calendario. ¿Qué fecha es el segundo martes de diciembre?

Diciembre 2015

| Domingo | Lunes | Martes | Miércoles | Jueves | Viernes | Sábado |
|---------|-------|--------|-----------|--------|---------|--------|
| | | 1 | 2 | 3 | 4 | 5 |
| 6 | 7 | 8 | 9 | 10 | 11 | 12 |
| 13 | 14 | 15 | 16 | 17 | 18 | 19 |
| 20 | 21 | 22 | 23 | 24 | 25 | 26 |
| 27 | 28 | 29 | 30 | 31 | | |

- a. Es 14 de diciembre
b. Es 8 de diciembre
c. Es 9 de diciembre

4. ¿Qué número corresponde a "dieciséis"?


- a. 61 b. 16 c. 66

5. Marca la alternativa que presente el triple de:

8

- a) 16 b) 32 c) 24

6. Observa el reloj y marca la alternativa que presenta la hora indicada.



- a) Seis y media
b) Doce y seis
c) Seis en punto

7. Un panadero prepara 46 panetones. Si desea agruparlos en paquetes de 10 en cada uno. ¿Cuántos paquetes necesitará? ¿Cuántos le quedarán sueltos?


- a) Necesitará 6 paquetes y le quedarán sueltos 4
b) Necesitará 46 paquetes y le quedarán sueltos 0
c) Necesitará 4 paquetes y le quedarán sueltos 6

8. Marca la alternativa que indica el número que continúa en la secuencia.

50 - 60 - 70 -

- a) 75 b) 80 c) 90

9. ¿Qué forma tiene la siguiente figura?



- a) cono b. cubo c. esfera

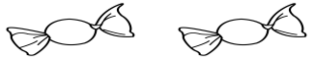

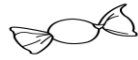
10. Marca la alternativa que presenta los números organizados de mayor a menor.

- a) $40 > 30 > 10 > 26$
b) $70 > 65 > 43 > 23$
c) $30 > 15 > 61 > 40$

11. Sarita compró 54 alfajores, si come 10, ¿cuántos alfajores le quedarán?

- a) 50 b.) 44 c) 49

12. Observa y marca la respuesta correcta.

| niños | premios |
|---------|---|
| Rosa |  |
| Félix |  |
| Antonio |  |

Cada  equivale a 2 premios.

¿Cuántos premios tiene Félix?

- a) 3 b) 6 c) 4